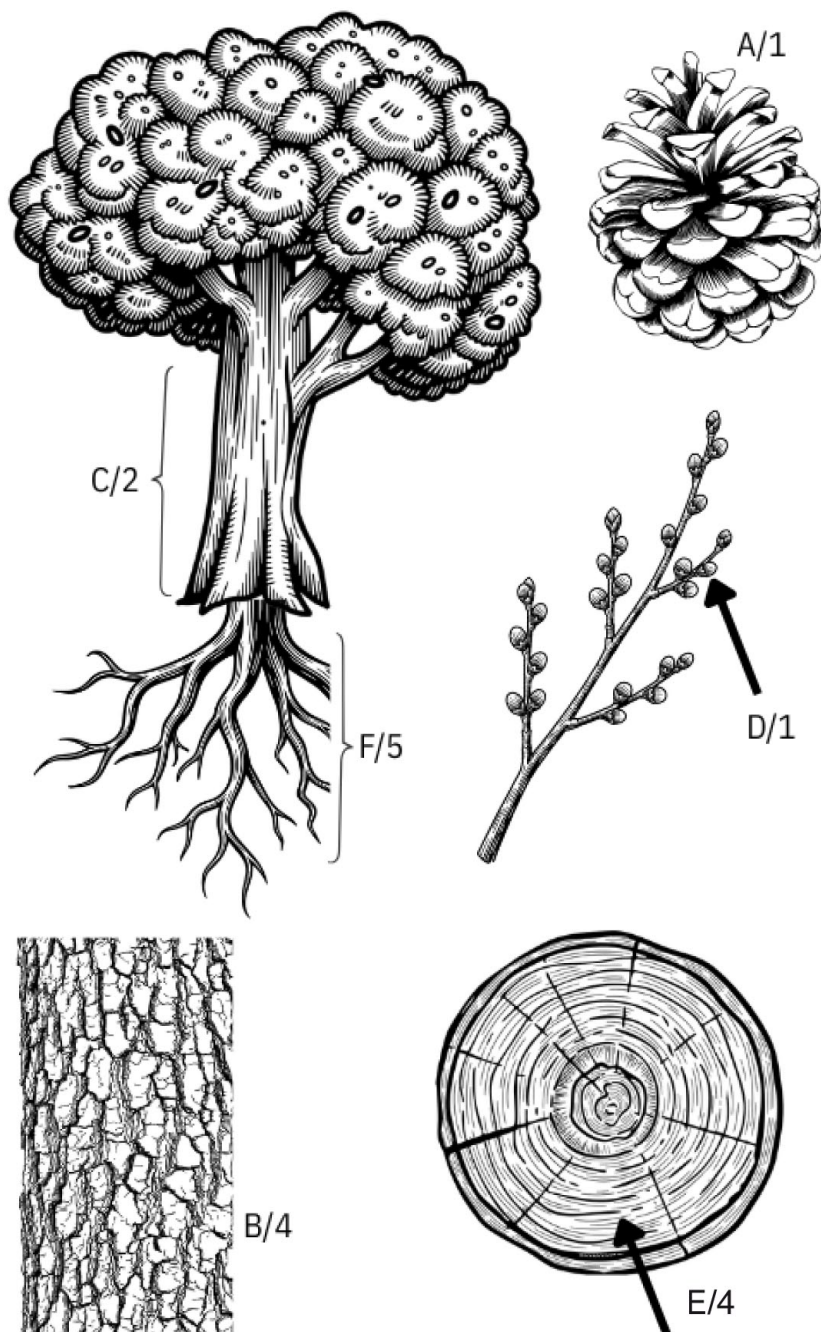


CO MŮŽEME VYROBIT Z BŘÍZY?

Doplňte do čtverečku písmeno podle jeho postavení ve slově
(PLOD 2=L)



A

B

C

D

E

F

BŘÍZA VYDRŽÍ DLOUHÉ A TUHÉ MRAZY. NA OBRÁZKU JE ROSTLINA, SNÁŠEJÍCÍ OPAK. POZNÁTE JI?

Vybarvěte tabulku podle čísel.

1 = modrá 2 = tmavě zelená 3 = světle zelená 4 = černá

1	1	1	1	1	1	1	1	1	1	1	1	1	1	1	1
1	1	1	1	1	1	1	1	1	1	1	1	1	1	1	1
1	1	1	1	1	1	1	4	4	1	1	1	1	1	1	1
1	1	1	1	1	1	4	2	2	4	1	1	1	1	1	1
1	1	1	1	1	1	4	2	2	4	1	1	1	1	1	1
1	1	1	1	1	1	4	3	2	4	1	1	1	1	1	1
1	1	4	4	1	1	4	2	2	4	1	1	4	4	1	1
1	4	2	2	4	1	4	2	2	4	1	4	2	3	4	1
1	4	3	2	4	1	4	2	2	4	1	4	2	2	4	1
1	4	2	2	4	1	4	2	3	4	1	4	2	2	4	1
1	4	2	3	4	1	4	3	2	4	4	4	2	2	4	1
1	4	2	2	4	1	4	2	2	2	2	2	2	2	4	1
1	4	2	2	4	1	4	2	2	2	2	3	2	2	4	1
1	4	2	2	4	1	4	2	2	3	2	2	2	4	1	1
1	4	3	2	4	4	4	2	2	2	2	2	4	1	1	1
1	4	2	3	2	2	3	2	3	2	2	4	1	1	1	1
1	1	4	2	2	2	2	2	2	2	4	1	1	1	1	1
1	1	1	4	2	2	2	2	2	4	1	1	1	1	1	1
1	1	1	1	4	2	2	3	2	4	1	1	1	1	1	1
1	1	1	1	1	4	2	2	2	4	1	1	1	1	1	1
1	1	1	1	1	1	4	2	2	4	1	1	1	1	1	1
1	1	1	1	1	1	4	2	2	4	1	1	1	1	1	1
1	1	1	1	1	1	4	2	2	4	1	1	1	1	1	1
1	1	1	1	1	1	4	2	2	4	1	1	1	1	1	1
1	1	1	1	1	1	4	2	2	4	1	1	1	1	1	1
1	1	1	1	1	1	4	2	2	4	1	1	1	1	1	1
1	1	1	1	1	1	4	2	2	4	1	1	1	1	1	1
1	1	1	1	1	1	4	2	2	4	1	1	1	1	1	1
1	1	1	1	1	1	4	2	2	4	1	1	1	1	1	1
1	1	1	1	1	1	4	3	2	4	1	1	1	1	1	1


KDO JE VDĚČNÝ JASANU? A ZJISTI PROČ?

Doplň svisle odpovědi na otázky. Sportovce z tajenky nakresli do rámečku.

- 1) ekosystém tvořen stromy
- 2) sloní zuby
- 3) kdo chodí do školy
- 4) jeden plus jeden
- 5) v Mělníce je soutok dvou...
- 6) nejlepší přátelé lidí

	1	2	3	4	5	6

DOPLŇ LOGICKOU ŘADU PŘÍRODNIN. NA POSLEDNÍM
ŘÁDKU VYMYSLI VLASTNÍ.



JAK SE NAZÝVÁ PLOD BUKU NAJDETE V OSMISMĚRCE:

B	K	R	U	Š	I	N	A	K	O	Č	K	A
A	K	L	O	I	V	A	K	Í	T	Š	U	P
A	V	Í	L	H	CH	L	R	Ž	E	L	V	A
J	A	T	Á	M	Á	E	O	O	S	O	K	K
A	E	K	E	L	O	Č	K	R	U	N	K	N
R	B	Ř	V	O	E	V	U	O	A	D	K	I
T	T	Á	Á	K	Š	V	S	S	N	U	E	Ř
S	M	R	Ž	B	L	O	A	O	U	B	N	A
A	I	P	R	V	O	S	E	N	K	A	S	M
O	N	D	A	T	R	A	J	E	D	L	E	Á
V	R	B	A	O	S	Í	V	K	A	U	Č	K
T	O	P	O	L	E	C	A	K	Š	I	L	E
B	Ř	Í	Z	A	J	E	L	E	N	E	C	E

astra, bříza, česnek, čolek, dub, hlíva, jedle, jelenec, jeřáb, kočka, kos, krokus, krušina, kuna, levandule, liška, mák, mařinka, máta, mlok, nosorožík, olše, ondatra, orsej, osívka, prvosenka, pušтік, roháč, sasanka, smrž, střemcha, topol, včela, violka, vos, vrba, žába, želva

**V BŘEZNU SE ZE SVÝCH ZIMOVÍŠŤ VRACÍ PTÁK
S OBDIVUHODNĚ LADNÝM LETEM. NA JEHO POČEST
VZNIKLO POŘEKADLO:**


„ŠUMÍ BŘEZNEM ŠEDÉ BUKY, HOJ MYSLIVČE, POJĎ

NA ___ ___ ___ ___ ___.”

Jak se jmenuje pták, napoví Morseova abeceda:

● ● ● ● — ● ● ● ● — — ● — ● —

Nakresli ho do rámečku.



VE VRBOVÉ KŮŘE JE LÉČIVÁ LÁTKA, KTERÁ FUNGUJE JAKO ASPIRIN. JAK SE JMENUJE?

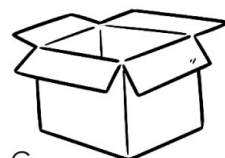
Doplňte názvy obrázků do tajenky




a



b



c



d



e

a	2			
		4	e	6
b				
3				
				7
		5		
c			d 1	

1	2	3	4	5	6	7
---	---	---	---	---	---	---


**CO S POMLÁZKOU PO VELIKONOCÍCH? STAČÍ SUNDAT
PENTLE A ZASADIT JI NA ZAHRADĚ, SAMA ZDE ZAKOŘENÍ.**

Nakreslete na zasazenou pomlázku listy a nové větvičky.




KTERÁ ZVÍŘATA SE TĚŠÍ NA KAŠTANOVÉ HODY?

Spoj název a zvíře.



2) muflon



B


A

5) los evropský



C

6) prase divoké




D


3) daněk evropský

1) jelen evropský

4) srnec obecný



E



F

KDY SE SBÍRAJÍ KAŠTANY K SÁZENÍ, NEBO PRO ZVĚŘ?

Vypočítej příklad a výsledek znamená měsíc sběru.

$$\text{spiky nut} + \text{smooth nut} = 6$$

$$\text{spiky nut} + \text{spiky nut} = 8$$

$$\text{spiky nut} - \text{smooth nut} = 6$$

$$\text{spiky nut} - \text{smooth nut} + \text{spiky nut} =$$

DOPLŇ PRÁZDNÁ POLÍČKA ČÍSLICEMI OD 1 DO 9.

V každém řádku, sloupci a čtverci musí být číslo pouze jedenkrát.

3	5		9		8	7	1	4
4		6	3	5			8	
9		1		7	2	6		3
5	3	9	8	1		4	7	2
	6		2			5		1
1		4	7	3	5		9	
	1	5	6	2	9	3	4	7
2	4		1		3	9	6	
6		3		4	7	1		8

OLŠE MÁ RÁDA BLÍZKOST VODY, PODLE TOHO SI VYBÍRÁ EKOSYSTÉMY, KDE SE BUDE VYSKYTOVAT.

Srovnej písmena a vytvoř další. Je mezi nimi nějaký, kde by se olše vyskytovala?

1) E L S _____

2) A S D _____

3) L O P E _____

4) U K A L O _____

5) S Ě T M O _____

6) Z E R E J O _____

7) K O Ř M A D _____

8) B R N Í Y K _____

9) C I V I N E _____

CO BYCHOM MOHLI VYROBIT ZE ZÁMOŘSKÉHO BRATRANCE NAŠEHO JAVORU?

Doplňte slova do tajenky. Odstraňte písmenka, která mají společná.

- 1 nejrychlejší pták – bicykl
- 2 pták létá, protože má... – pomůcka na psaní na tabuli
- 3 větev na zemi – ubytování pro papouška
- 4 mystické zvíře, které krade princezny – říční korýš
- 5 krychle – klíčnící/stehenní
- 6 sušená tráva – noční vize
- 7 pasení – část chodidla
- 8 cesta – druh psa (například kokršpaněl)
- 9 řidič letadla – ohraničení zahrady proti zlodějům

$$1 \quad \boxed{} \boxed{} \boxed{} \boxed{} \boxed{} \boxed{} - \boxed{} \boxed{} \boxed{} \boxed{} = \boxed{}$$

$$2 \quad \boxed{} \boxed{} \boxed{} \boxed{} \boxed{} \boxed{} \boxed{} - \boxed{} \boxed{} \boxed{} \boxed{} \boxed{} \boxed{} = \boxed{}$$

$$3 \quad \boxed{} \boxed{} \boxed{} \boxed{} \boxed{} \boxed{} \boxed{} \boxed{} - \boxed{} \boxed{} \boxed{} \boxed{} = \boxed{} \boxed{}$$

$$4 \quad \boxed{} \boxed{} \boxed{} \boxed{} \boxed{} - \boxed{} \boxed{} \boxed{} = \boxed{}$$

$$5 \quad \boxed{} \boxed{} \boxed{} \boxed{} \boxed{} \boxed{} \boxed{} \boxed{} - \boxed{} \boxed{} \boxed{} \boxed{} = \boxed{} \boxed{}$$

$$6 \quad \boxed{} \boxed{} \boxed{} \boxed{} \boxed{} - \boxed{} \boxed{} \boxed{} = \boxed{}$$

$$7 \quad \boxed{} \boxed{} \boxed{} \boxed{} \boxed{} \boxed{} \boxed{} \boxed{} - \boxed{} \boxed{} \boxed{} \boxed{} \boxed{} \boxed{} = \boxed{} \boxed{}$$

$$8 \quad \boxed{} \boxed{} \boxed{} \boxed{} \boxed{} \boxed{} - \boxed{} \boxed{} \boxed{} \boxed{} = \boxed{}$$

$$9 \quad \boxed{} \boxed{} \boxed{} \boxed{} \boxed{} \boxed{} - \boxed{} \boxed{} \boxed{} \boxed{} = \boxed{}$$

JAKÉ ZNÁŠ HUDEBNÍ NÁSTROJE ZE DŘEVA? NAKRESLI JE:

**KIMOVA HRA. PŘEČTI SI TEXT, ZAKRYJ HO A VYBER
SPRÁVNOU ODPOVĚĎ.**

Tu nakresli do připraveného okénka.

Habr má nejtvrdší:

- a) kůru
- b) dřevo
- c) listí



Vyrábí se z něj:

- a) lahodný džus
- b) trička a kalhoty
- c) paličky na bicí



**Listy habru mají na rozdíl
od buku:**

- a) pilování
- b) kroužkování
- c) vlnkování



**PRO VYTVOŘENÍ ŽIVÉHO PLOTU SE HABRY STŘÍHAJÍ TAK,
ŽE PŘIPOMÍNÁJÍ SPÍŠE KEŘE, NEŽ STROMY. JAKÉ KEŘE
ZNÁTE VY?**

Názvy běžných keřů doplňte do správných okének podle počtu písmen:

3 - BEZ


4 - HLOH, KLEČ

5 - SVÍDA

6 - BRSLN, KALINA

7 - KRUŠINA, ZIMOLEZ, LÝKOVEC, DŘIŠTÁL, CISMÍNA

8 - DŘEZOVEC, RAKYTNÍK,

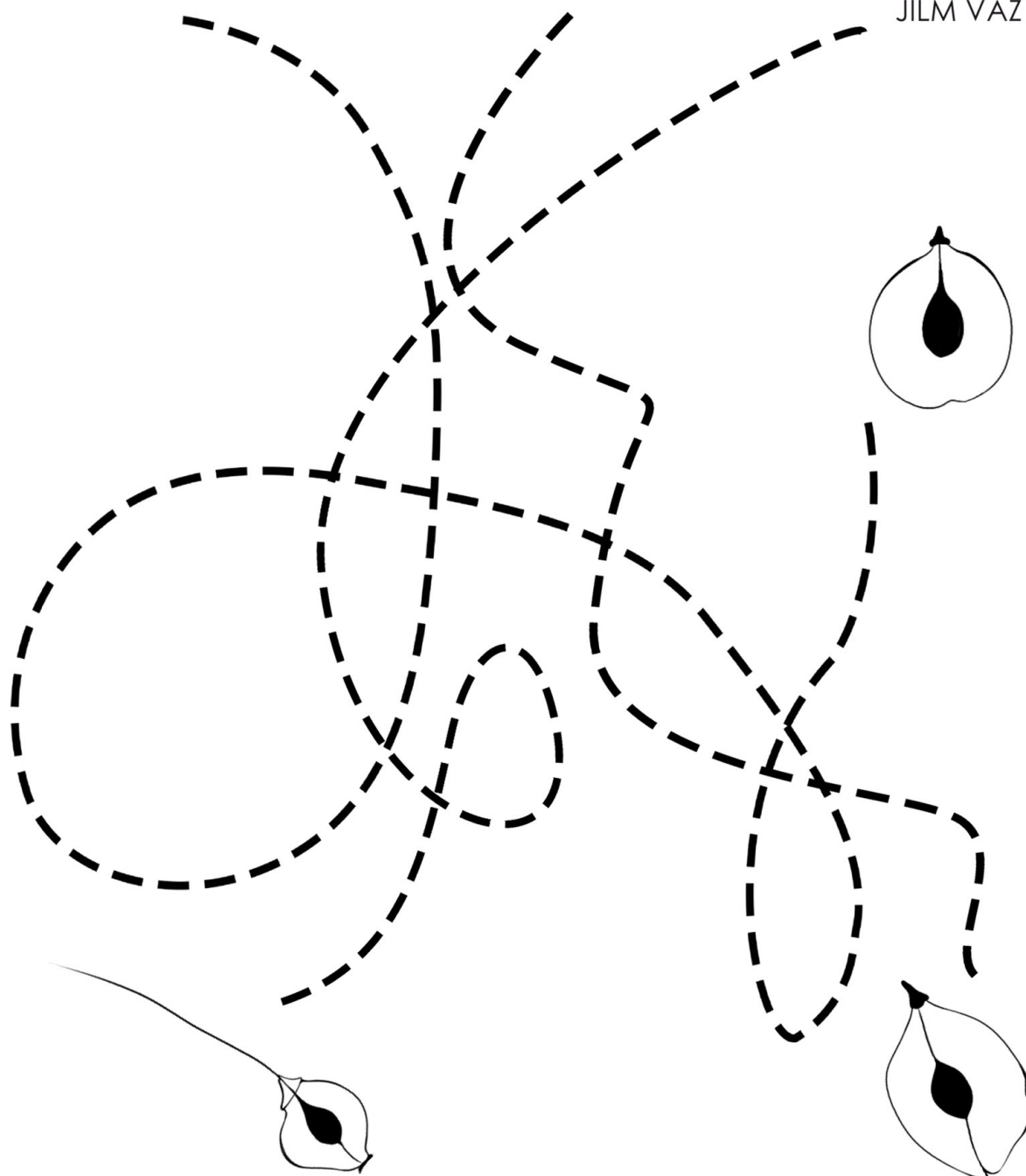


V ČR MÁME JEŠTĚ DVA DRUHY JILMŮ. ROZEZNAT JE MŮŽEME PODLE POSTAVENÍ SEMÍNKA V NAŽCE.


JILM HABROLISTÝ

JILM DRSNÝ



JILM VAZ





JILMY SE LIŠÍ TAKÉ SVÝMI LISTY. NAKRESLI ŘADU
OD KAŽDÉHO LISTU.




JILM VAZ



JILM HABROLISTÝ

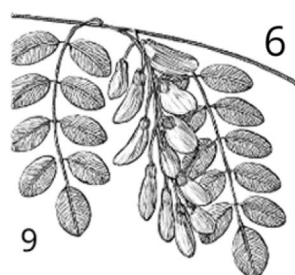

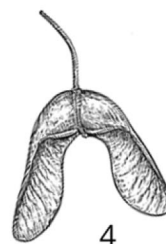


JILM DRSNÝ



JAK MŮŽEME JINAK POJMENOVAT LÍPU SRDČITOU?

Do tajenky doplň názvy stromů, na kterých roste následující:



JAK SE NAZÝVÁ PLOD LÍPY?

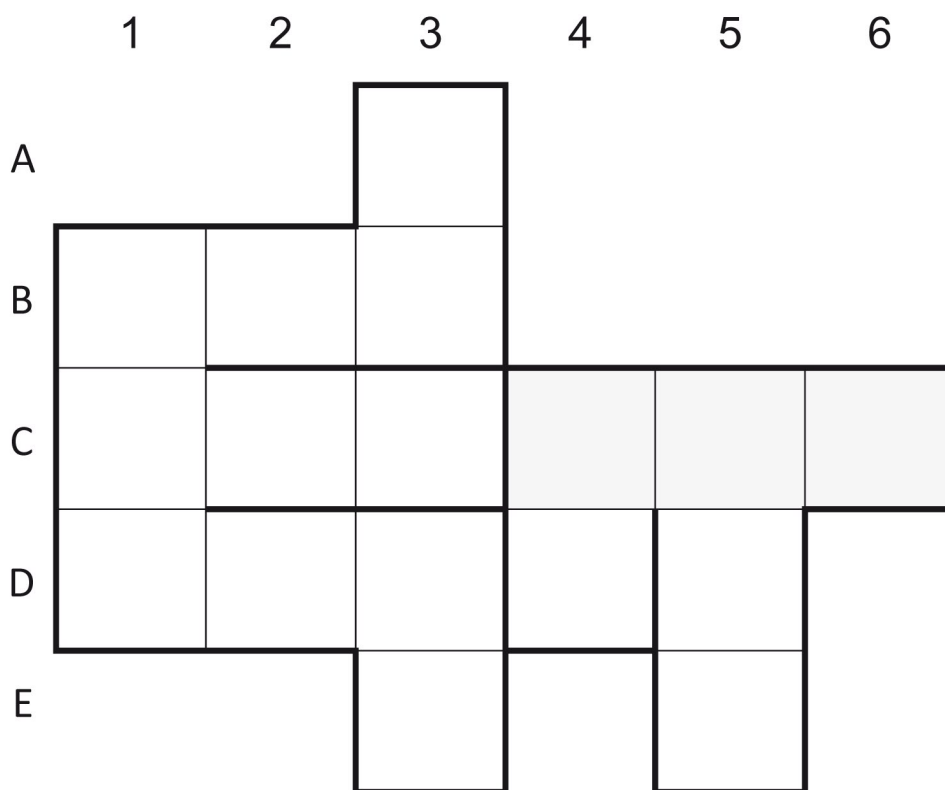
Do okének doplň odpovědi **po slabikách**.

svisle

1 - MLÁĎATA KRAV, 3 - ZNAK NA KONCI VĚTY, EKOSYSTÉMY SE STROMY, 4 - TATÍNEK FORMÁLNĚ, 5 - OBYVATELÉ ŘÍMA, 6 - PENĚŽNÍ POUKÁZKA

vodorovně

B - MALÁ SESTRA MATKY, C - ŠKOLNÍ STŮL ŽÁKA, **TAJENKA**, D - ČESKY "BLACKBOARD"




JAK ROZEZNÁME NEJČASTĚJŠÍ DUBY PODLE LISTU?

Dokreslete druhou stranu.



dub letní



dub zimní


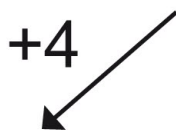
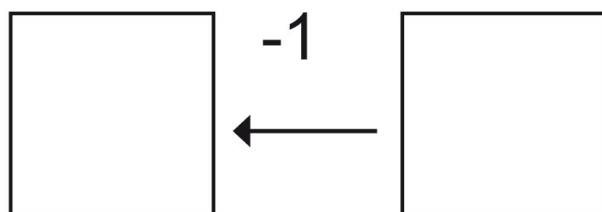
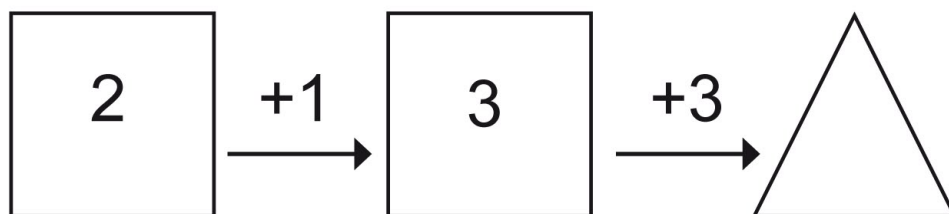




dub červený



dub cer

KOLIK PROCENT LESŮ TVOŘÍ DUBY? VYPOČÍTEJ HADA:
Kamarádům můžeš vymyslet složitější verzi.




 +
 
 =

 %

NA TOPOLECH SE ČASTO VYSKYTUJE POLOPARAZITICKÁ
ROSTLINA TYPICKÁ PRO VÁNOČNÍ ČAS. KTERÁ JE TO?
POZNÁTE OSTATNÍ VÁNOČNÍ ROSTLINY?

a) CISMÍNA OSTROLISTÁ

b) VÁNOČNÍ HVĚZDA

c) VÁNOČNÍ KAKTUS

d) JMELÍ BÍLÉ

